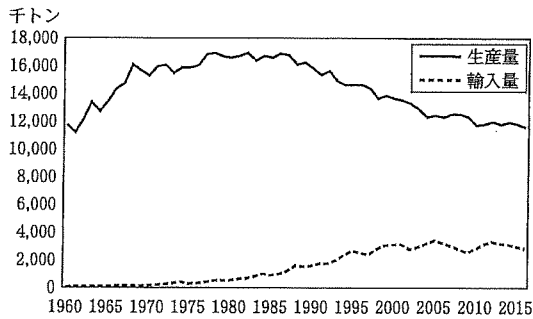


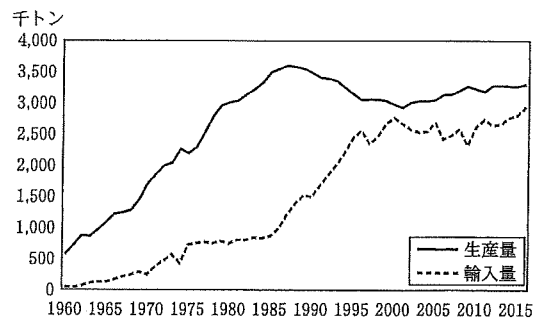
地理 問題Ⅱ

産業と資源に関する次の問い(問1～4)に答えなさい。

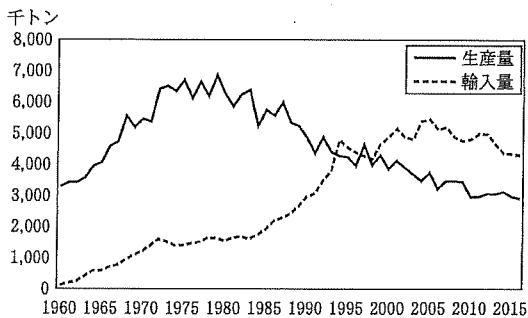
問1 次の図1は、日本における主な食料の生産量と輸入量の推移を示したものであり、ア～エは、果実、米、肉類、野菜のいずれかである。ア～エに該当する食料の名前をそれぞれ答えなさい。また、そのように解答した理由もそれぞれ述べなさい。



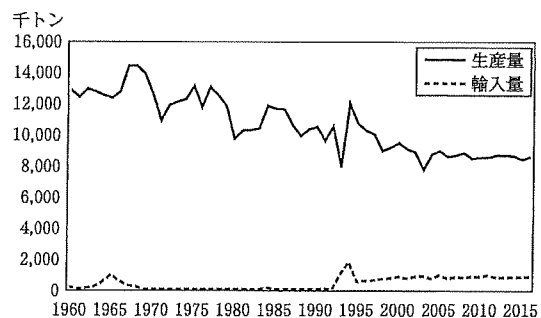
ア



イ



ウ

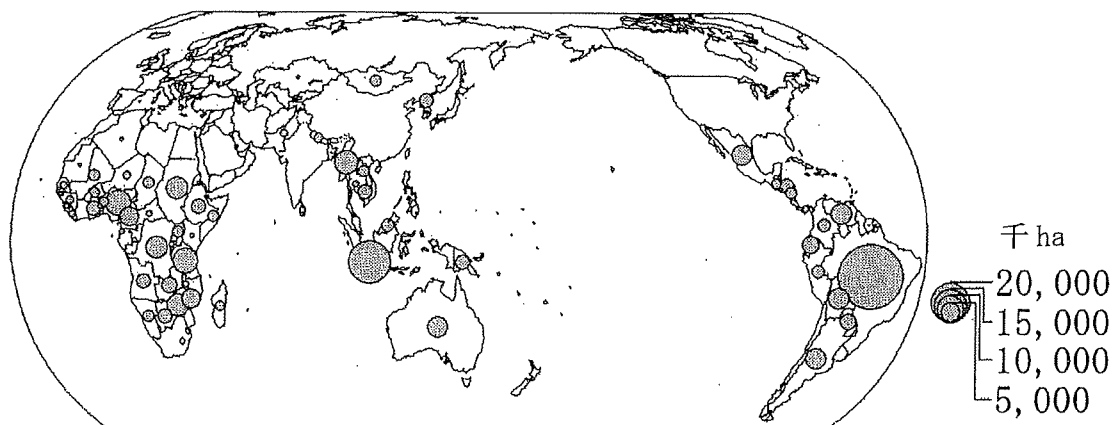


エ

農林水産省『食料需給表』により作成

図1

問 2 次の図 2 は、1990 年から 2010 年の間に森林面積が減少している国・地域について、森林減少面積を国・地域別に示したものである。図 2 を見て、今日の森林減少の地理的な特徴とその背景を述べなさい。



FAO の資料により作成

図 2

問 3 次の表 1 は、アメリカ合衆国、オーストラリア、カナダ、ドイツにおける一次エネルギーの自給率を示したものである。カ～ケに該当する国名を、それぞれ答えなさい。

表 1

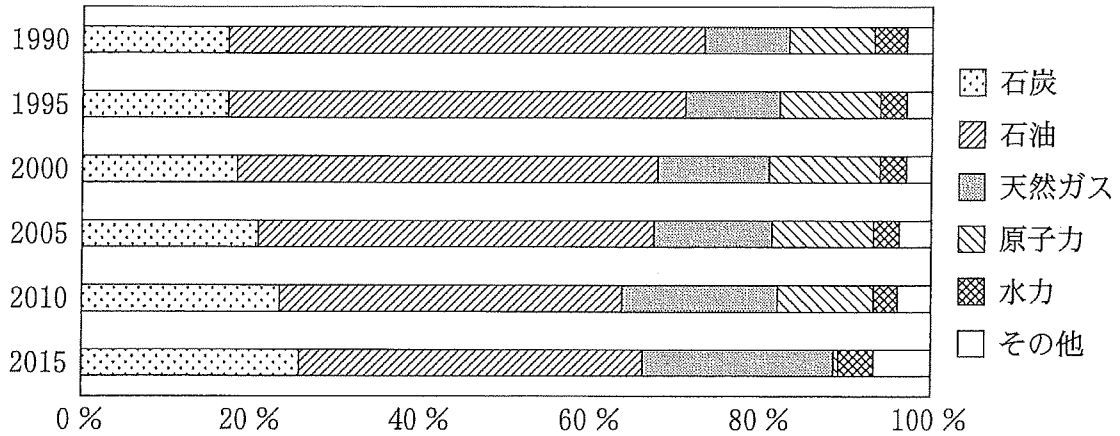
(単位：%)

	カ	キ	ク	ケ
原油	62.4	214.3	71.0	3.3
石炭	115.3	166.2	695.8	54.1
天然ガス	98.5	159.8	174.9	9.7

統計年次は 2015 年

International Energy Agency の資料により作成

問 4 次の図 3 は、日本における一次エネルギーの供給割合を時系列的に示したものである。図 3 から読み取れる日本における一次エネルギー使用の特徴について、下の [] 内の語をすべて用いて述べなさい。用いた箇所には下線を引くこと。



資源エネルギー庁『総合エネルギー統計』により作成

図 3

[石油依存度, 代替エネルギー, 持続可能]